



Jedes Blatt hat ein Schattenblatt!



A



B



C



D



E



F



G



H



I




3



6



4



Wieviel Bäume hast du gewusst?
1-4 Punkte: Beetle
5-9 Punkte: Honeybee

5



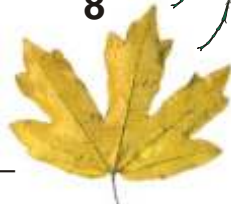
1



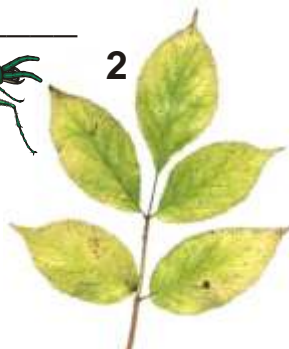
7



8



2



9



www.kreativerunterricht.de

Name: _____ Datum: _____ Kl. _____ Fach: _____

Suche zu den Buchstaben die passenden Zahlen und schreibe den Namen des Baumes dahinter!

Lösung: A7 Eiche B4 Spitz-Ahorn C5 Weißbuche (Hainbuche) D9 Birke E8 Feld-Ahorn F6 Zitterpappel (Espe) G1 Rot-Buche H2 Holunder I3 Korb-Weide